



HOKKAIDO UNIVERSITY

Title	2006年度 グラフ理論講義ノート
Author(s)	井上, 純一; Inoue, Jun-ichi
Description	http://www005.upp.so-net.ne.jp/j_inoue/index.html http://chaosweb.complex.eng.hokudai.ac.jp/~j_inoue/
Issue Date	2006
Doc URL	https://hdl.handle.net/2115/15412
Rights(URL)	https://creativecommons.org/licenses/by-nc-sa/2.1/jp/
Type	learning object
File Information	GraphTheory06_slide.pdf, 第1回講義スライド



グラフ理論 #1

第1回講義 4月10日

--- ウォーミングアップ ---

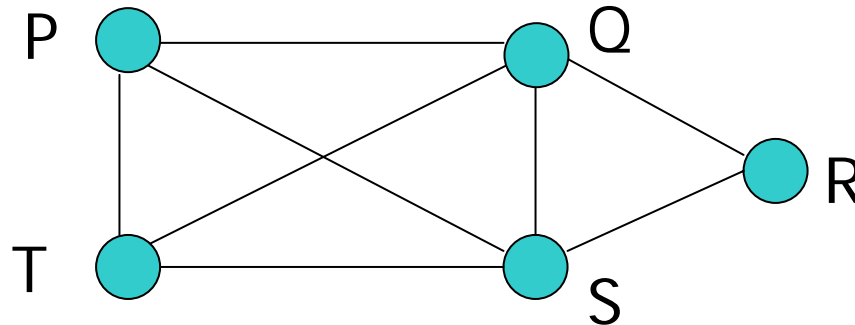
情報科学研究科

井上純一

http://chaosweb.complex.eng.hokudai.ac.jp/~j_inoue/

グラフとは何か？

この講義で学ぶグラフの1例



この講義で学ぶグラフは点(vertex) ● 及び辺(edge) — からなる

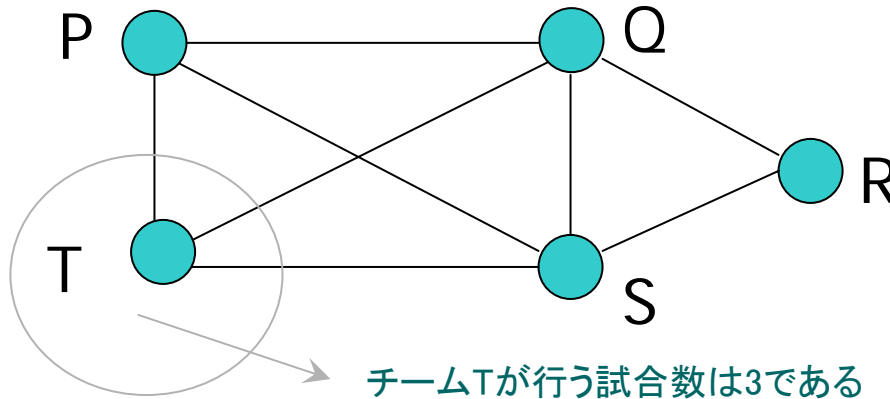
次数 (degree) : ある点を端点とする辺の本数

$$\deg(P) = 3, \quad \deg(Q) = 4$$

考える点を指定してはじめて定義される

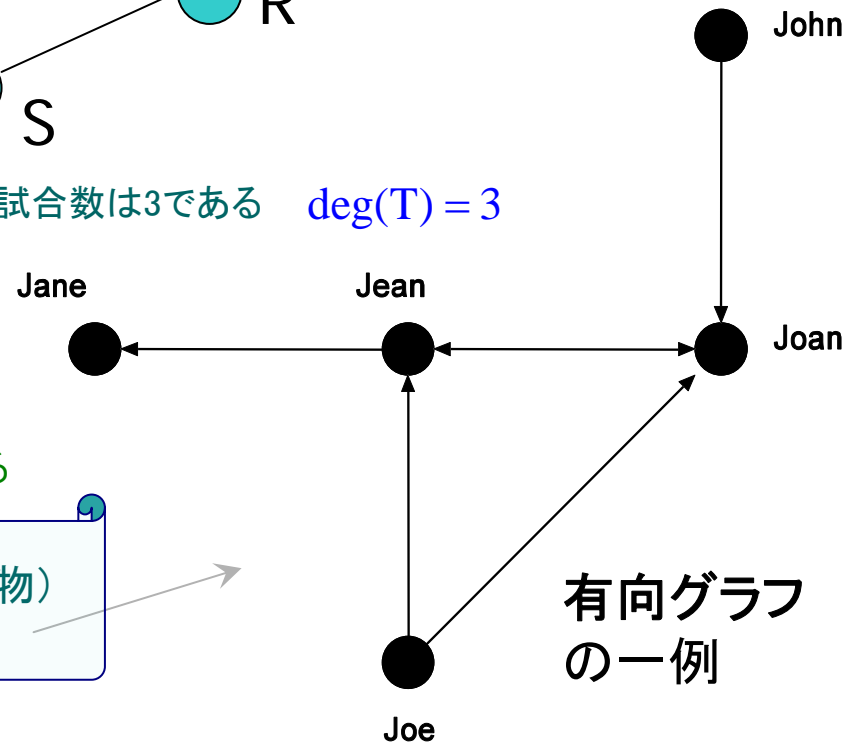
グラフに意味を持たせる

P,Q,R,S,Tはフットボールチームであるとする



例題1.1の(2)

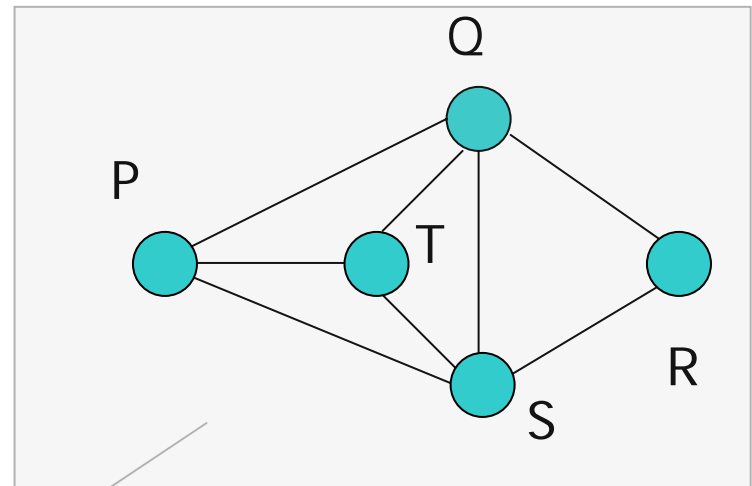
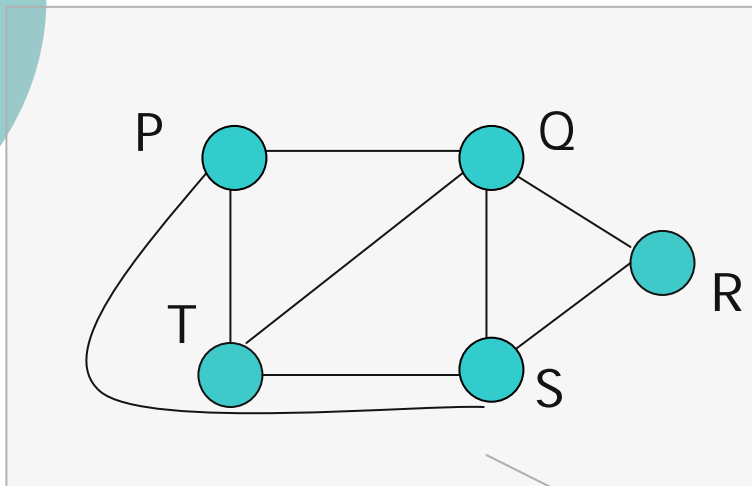
JohnはJoanが好きで、JeanはJaneが好きで、JoeはJeanとJoanが好きで、JeanとJoanは互いに好きである



(好意を持っている人物) → (好意を持たれている人物)
と矢印をつける約束を決める

グラフの同型性

同型な2つのグラフ：任意の点と点、辺と辺の関係が同じであるグラフ

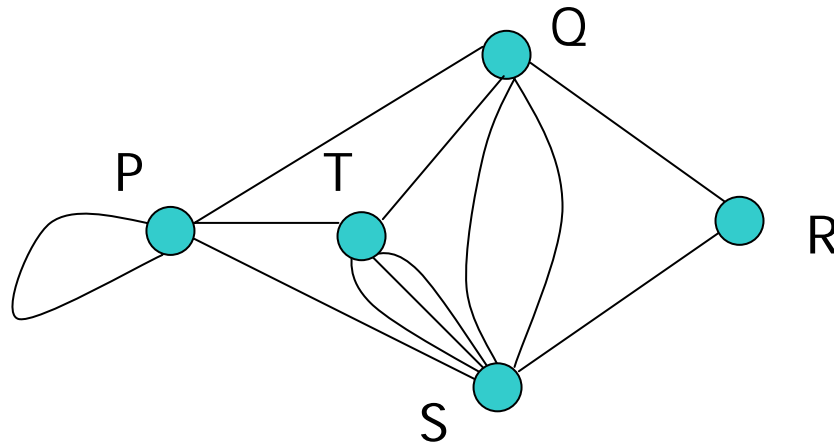


これら2つは互いに同型である

※ より正確には後に見る「同型写像」の存在を調べることにより判定する

実問題をグラフで表現する際には、調べたい関係が見やすく、扱いやすいものを選ぶことが肝要である

多重辺、ループ、単純グラフ



多重辺 (multiple edges) : 任意の2点を2本以上の辺が結んでいる場合

⇒ 図のTS, QS

ループ(loop) : 任意の点からそれ自身に戻る辺

⇒ 図のPP

単純グラフ (simple graph) : 多重辺やループを含まないグラフ

有向グラフ

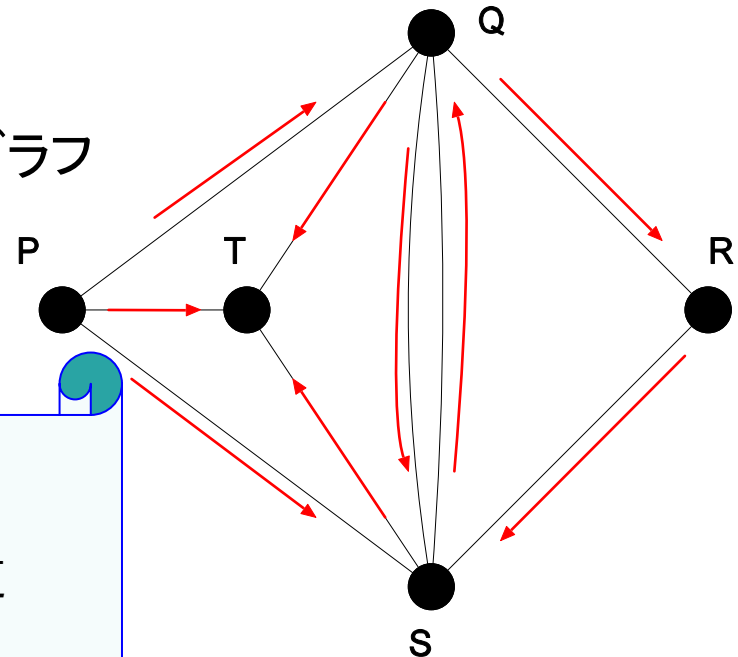
有向グラフ (digraph) : 辺に方向が与えられたグラフ

有向グラフに関連するいくつかの概念

歩道(walk) : 連結した辺の列

道(path) : どの点も高々一度しか訪れない歩道

閉路 (cycle) : 閉じた歩道

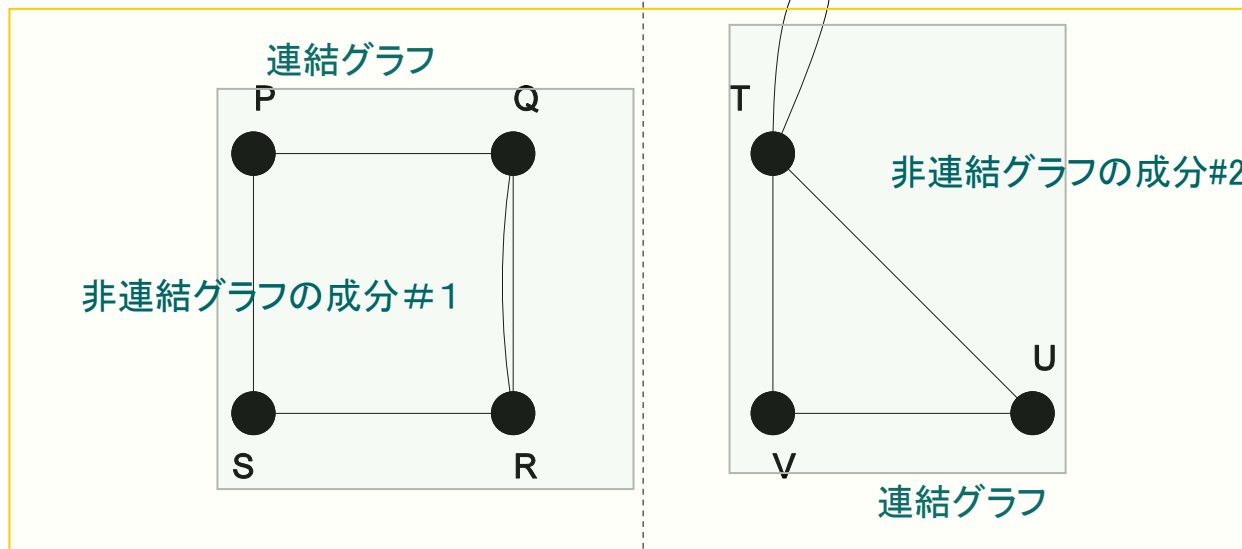


有向グラフの一例. 各辺に方向を持たせることにより、任意の2点間の関係性に意味を持たせることができる

連結グラフと非連結グラフ

「全部つながっているか」「つながっていないか」でグラフを分類できる

非連結グラフ



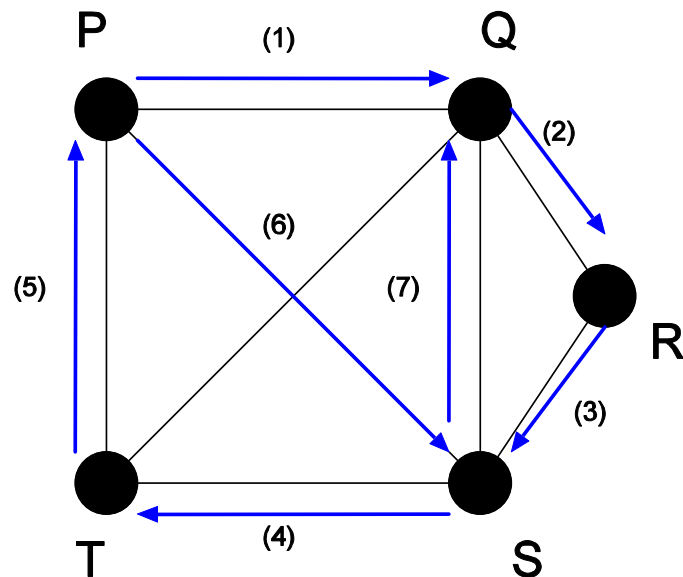
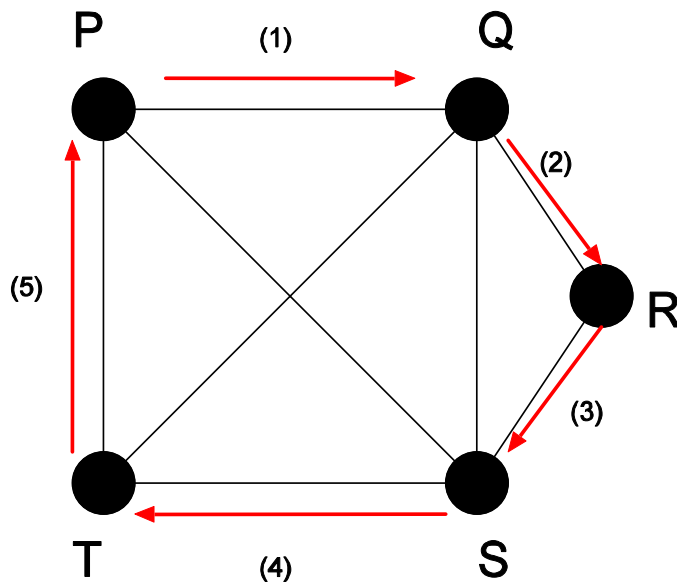
連結グラフ (connected graph) : どの2点も結ばれているグラフ

非連結グラフ (disconnected graph) : 連結グラフでないグラフ

オイラー・グラフとハミルトン・グラフ

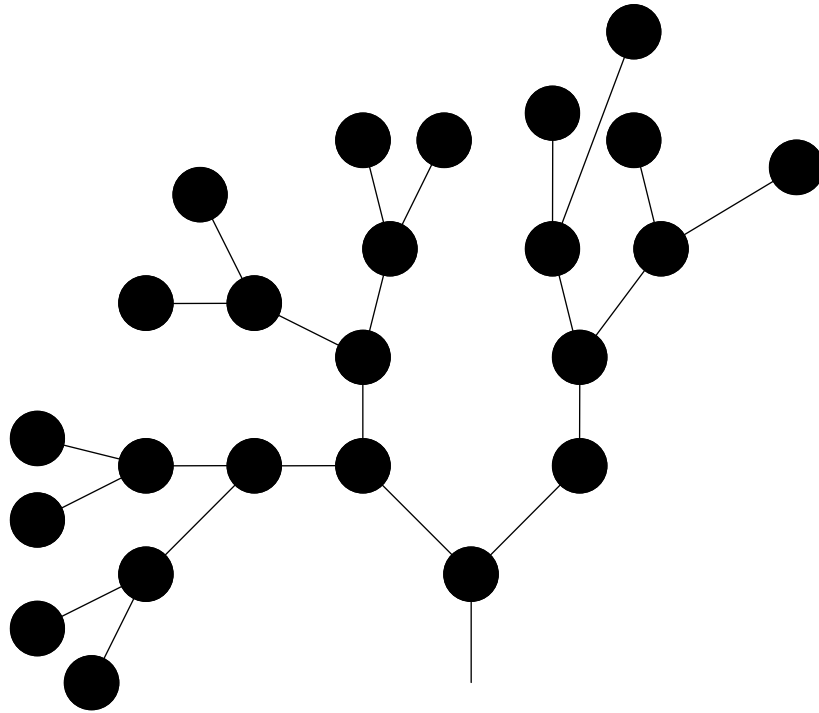
オイラー・グラフ (Eulerian graph) : 全ての辺をちょうど1回ずつ通って出発点に戻る歩道を含むグラフ

ハミルトン・グラフ (Hamilton graph) : 全ての点をちょうど1回ずつ通って出発点に戻る歩道を含むグラフ



ハミルトン・グラフではあるが、オイラー・グラフではない一例

木



木の一例

木 (tree) : どの2点の間にも道が1本しかない連結グラフ

※ ワークステーションのファイルシステム、生物進化の系統図などは木構造をもつ。

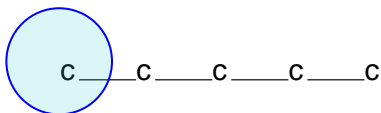
例題1.1 (1)

化学式 C_5H_{12} で表される有機物の構造異性体を全て挙げよ

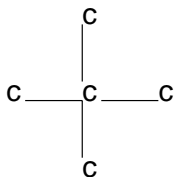
Cの並べ方を決めればHは自動的に決まる

A

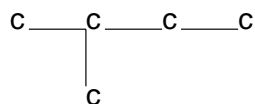
炭素の次数は4



B



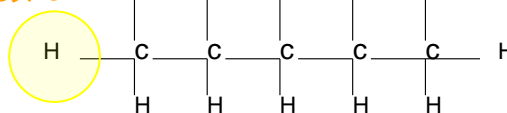
C



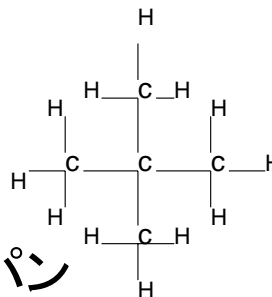
A

ペンタン

水素の次数は1

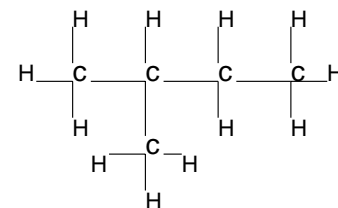


B



2-2-ジメチルプロパン

C



2-メチルブタン

いくつあるのか？



ケイリーの公式 (「木」の回で詳しく見る)
(ラベル付きの木の場合)